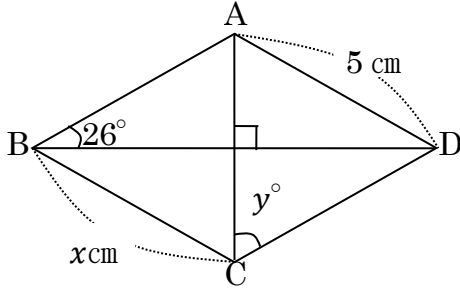


中2 数学	平行四辺形	氏名
特別な平行四辺形		

問 次の図で、 x 、 y の値を求めなさい。

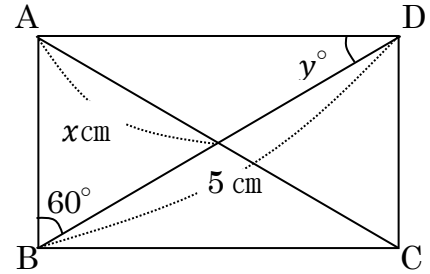
(1) ひし形 ABCD



$x = \dots\dots\dots$ cm

$\angle y = \dots\dots\dots$ °

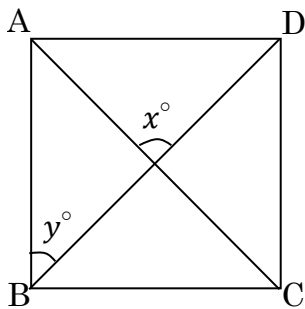
(2) 長方形 ABCD



$x = \dots\dots\dots$ cm

$\angle y = \dots\dots\dots$ °

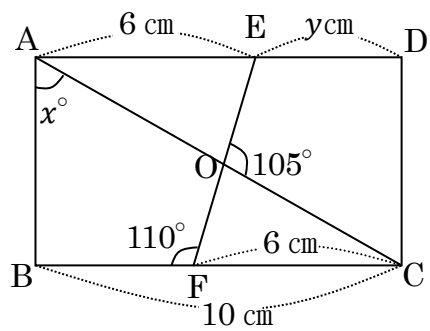
(3) 正方形 ABCD



$\angle x = \dots\dots\dots$ °

$\angle y = \dots\dots\dots$ °

(4) 長方形 ABCD



$\angle x = \dots\dots\dots$ °

$y = \dots\dots\dots$ cm

