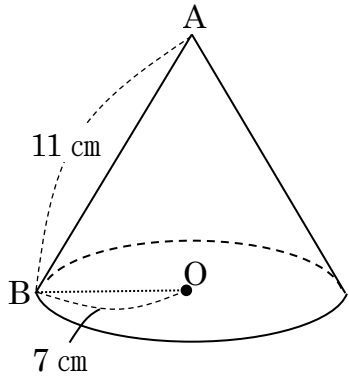


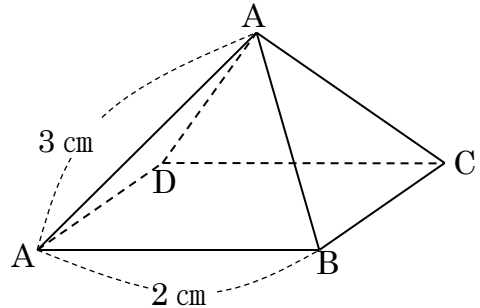
問 次の円すいや正四角すいの高さと体積を求めよ。

(1)



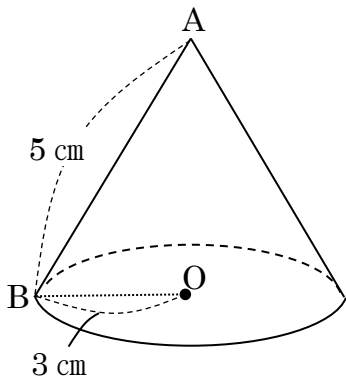
高さ cm, 体積 cm^3

(2)



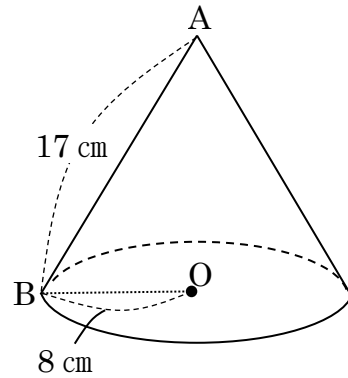
高さ cm, 体積 cm^3

(3)



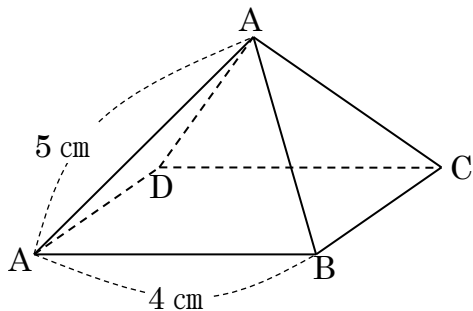
高さ cm, 体積 cm^3

(4)



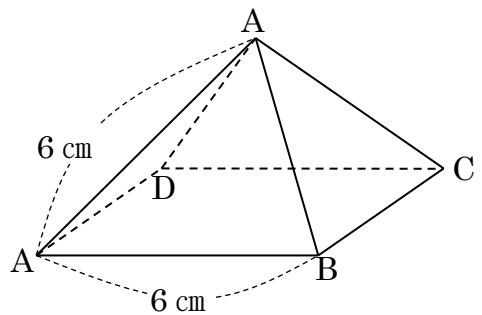
高さ cm, 体積 cm^3

(5)



高さ cm, 体積 cm^3

(6)



高さ cm, 体積 cm^3

