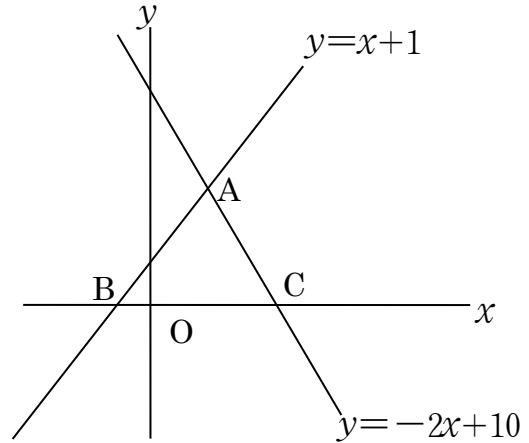
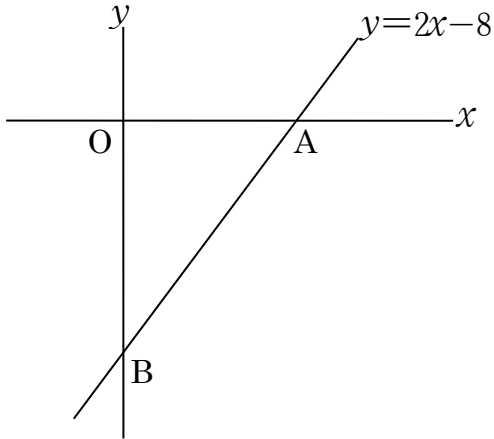


| | | |
|--------|-------|----|
| 中 2 数学 | 1 次関数 | 氏名 |
| 面積二等分 | | |

1 次の三角形の面積を，次の各点を通る直線で二等分するとき，その式を求めよ。

(1) 点 O を通り二等分

(2) 点 A を通り二等分



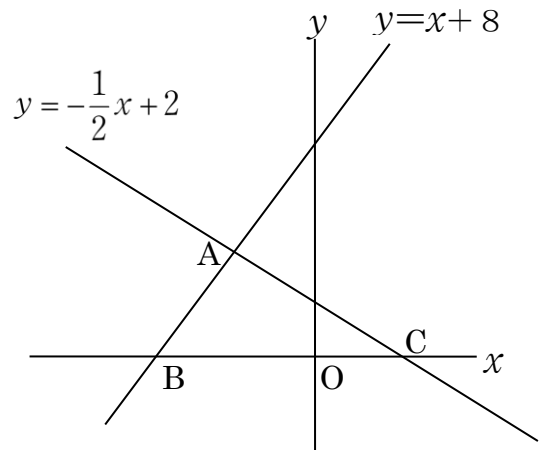
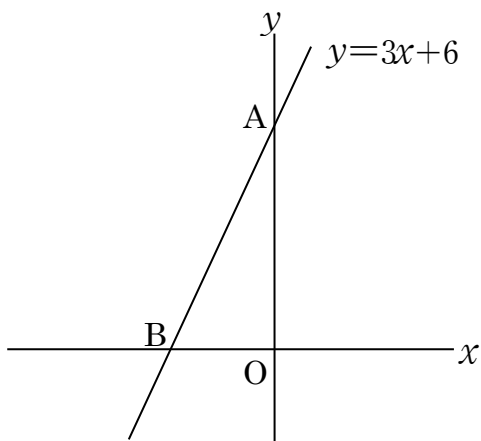
$y =$

$y =$

2 次の三角形の面積を，次の各点を通る直線で二等分するとき，その式を求めよ。

(1) 点 O を通り二等分

(2) 点 A を通り二等分



$y =$

$y =$

